

Промежуточная аттестация по географии для 7 класса

1. Этот материк можно назвать самым холодным:

- А) Южная Америка Б) Северная Америка В) Австралия Г) Евразия Д) Антарктида

2. Как называется закономерная смена природных зон от подножия горы к её вершине:

- А) широтная зональность Б) высотная поясность В) географическая широта

3. Коренных жителей Южной Америки называют:

- А) аборигены Б) креолы В) индейцы Г) самбо

4. Какое море является лишним в данном перечне?

- А) Баренцево Б) море Лаптевых В) Карское Г) Охотское

5. Пограничные области между литосферными плитами называются:

- А) платформа Б) сейсмоактивная зона В) горный пояс Г) низменность

6. Установите соответствие между материками и растениями, произрастающими на данных материках:

- 1) Африка 2) Евразия 3) Южная Америка 4) Северная Америка 5) Австралия 6) Антарктида

- А) эвкалипт Б) баобаб В) сейба Г) секвойя Д) берёза Е) растительный покров отсутствует

Ответ: 1-... 2- ... 3- ... 4- ... 5- ... 6- ...

7. Установите соответствие между государствами и их столицами:

- 1) Бразилия 2) ЮАР 3) Великобритания 4) Мексика


- А) Претория Б) Мехико В) Бразилиа Г) Лондон

Ответ: 1-... 2- ... 3- ... 4- ...

8. Маршрут экспедиции кого из путешественников изображён на карте?



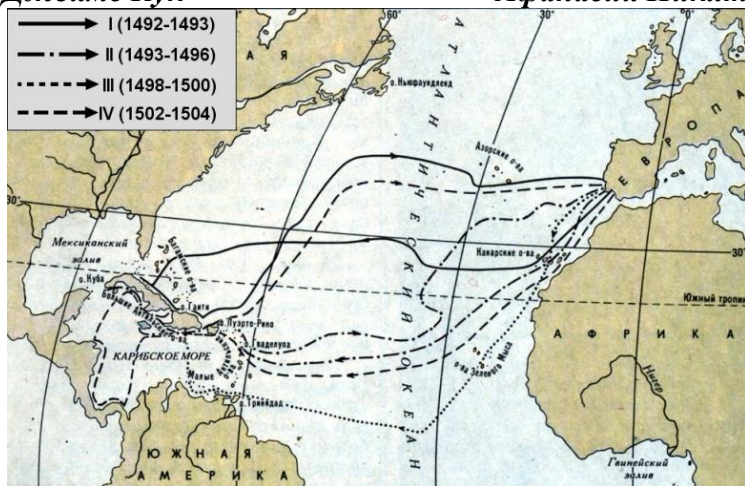
Джеймс Кук



Афанасий Никитин



Христофор Колумб



Ответ _____

9. Выберите из представленного ниже списка названия географических объектов,

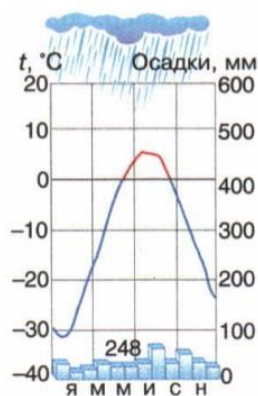
расположенных на территории материка Южная Америка, указав вид объекта (например:

Сахара - пустыня). **Объекты:** Амазонка, Эйр, Гурон, Муррей, Гималаи, Байкал, Миссисипи, Анды,

Кордильеры, Нил, Ниагарский, Анхель, Парана

Ответ: _____

10. По климатограмме определите климатические показатели и заполните таблицу:



Средняя температура воздуха, в °С		Годовая амплитуда температур, в °С	Среднегодовое количество осадков, в мм	Климатический пояс
в январе	в июле			

11. Какой природной зоне мира соответствуют приведённые ниже характеристики? Укажите в ответе название этой природной зоны.

- 1) Занимает большие территории в Северном полушарии (в Африке и Евразии).
- 2) Влажность воздуха почти равна 0, осадков очень мало, а в некоторых местах дождей не бывает по несколько лет.
- 3) В растительном покрове преобладают кактусы, песчаные акации.
- 4) Формируются почвы, бедные гумусом.
- 5) Типичные представители животного мира: верблюд, змеи, скорпионы и т.д.

Ответ: _____

12. Определите, какой вулкан имеет географические координаты 3° ю.ш. 37° в.д.

Ответ: _____

13. Рассмотрите фотографию с изображением опасного явления природы. Запишите его название дайте его характеристику.



Это — _____

Чем опасно это явление для людей? Составьте краткое описание этого природного явления (объёмом до трех предложений).

1. _____

2. _____

3. _____

Встречается в такой стране, как _____

14. Определите страну по её краткому описанию:

Территорию этой страны, расположенной в Западном полушарии, пересекает Северный полярный круг. Страна не имеет сухопутных границ с другими государствами. Она выделяется тем, что в пределах значительной части её территории природные ландшафты сохранились нетронутыми человеком. Отличительной особенностью её природы является наличие действующих вулканов.

Ответ: _____